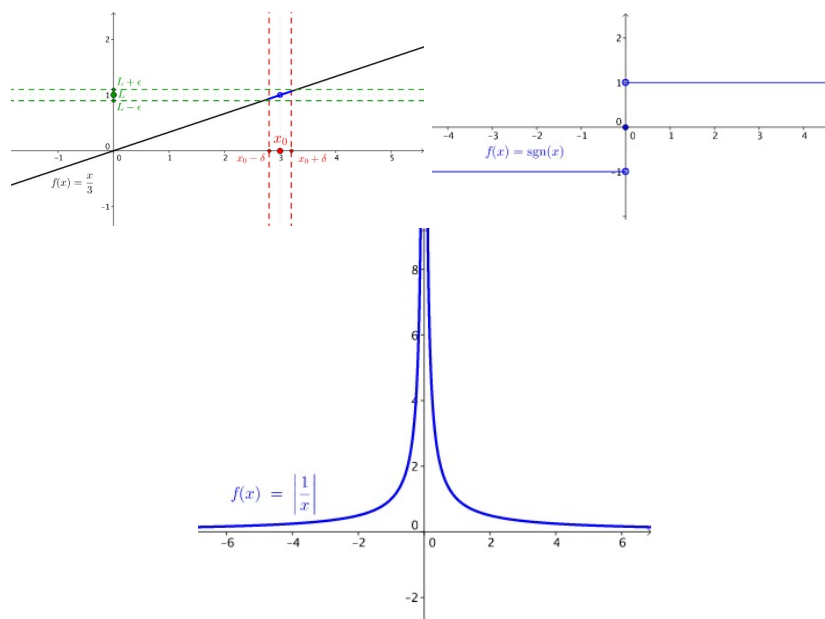


# Limita a spojitost funkce

## Limita funkce

Pokud bereme funkci  $f$  jako předpis, který hodnotě  $x$  přiřazuje funkční hodnotu  $f(x)$ , pak  $f$  má v bodě  $p$  limitu  $L$ , jestliže pro  $x$  v okolí bodu  $p$  jsou hodnoty  $f(x)$  blízko  $L$ . Matematická definice, navržená na začátku 19. století, vyžaduje, aby se pro libovolně malou odchylku od  $L$  dalo najít okolí bodu  $p$ , že pro každé  $x$  v tomto okolí se  $f(x)$  liší od  $L$  o méně než povolenou odchylku.

Matematicky zapisujeme, že pro  $x$  blížící se k  $p$  se hodnota  $f(x)$  blíží k  $L$  výrazem  $\lim_{x \rightarrow p} f(x) = L$ .



Obrázek 1: Ukázka okolí bodu (vlevo nahoře), ukázka nespojitosti (vpravo nahoře) a nespojitosti ve vlastním bodě (dole).

### Důležité vzorce:

$$\lim_{x \rightarrow \infty} \frac{1}{x^a} = 0, \quad \lim_{n \rightarrow \infty} \left(1 + \frac{1}{n}\right)^n = e, \quad \lim_{x \rightarrow 0} \frac{\sin x}{x} = 1$$

kde  $a$  je kladné reálné číslo a  $e$  Eulerovo číslo ( $e \doteq 2.718$ ).

## Spojitost funkce

**Spojité funkce** je taková matematická funkce, jejíž hodnoty se mění plynule, což si lze intuitivně představit tak, že graf funkce lze nakreslit jedním tahem,

aniž by se tužka zvedla z papíru. Funkce, která není spojitá, se označuje jako nespojitá. Funkce má v každém bodě definičního oboru vlastní limitu (reálné číslo, ne nekonečno).

**Funkce, kde není definiční obor celé  $R$ :**

$$\begin{aligned}y &= \frac{1}{x}, & y &= \frac{1}{x+2} \\y &= \sqrt{x}, & y &= \sqrt{x^2 - 4} \\y &= \log x, & y &= \log(x - 5)\end{aligned}$$

**Příklad 3.1**

Určete limitu  $\lim_{x \rightarrow 3} x^2$ .

*Řešení*

- Protože funkce  $y = x^2$  je spojitá v bodě 3, můžeme přímo dosadit a určit limitu díky [vztahu mezi limitou a spojitostí](#).
- $\lim_{x \rightarrow 3} x^2 = 3^2 = 9$

**Příklad 3.2**

Určete limitu  $\lim_{x \rightarrow 2} x^2 + x - 1$ .

*Řešení*

- Použijeme [větu o limitě součtu](#) a protože funkce  $y = x^2$  a  $y = x - 1$  jsou spojitě v bodě 2, můžeme počítat takto:
- $\lim_{x \rightarrow 2} x^2 + x - 1 = \lim_{x \rightarrow 2} x^2 + \lim_{x \rightarrow 2} x - 1 = 2^2 + 1 = 5$

**Příklad 3.3**

Určete limitu  $\lim_{x \rightarrow -1} (x - 1)(x + 3)$ .

*Řešení*

- Použijeme [větu o limitě součinu](#) a využijeme spojitosti.
- $\lim_{x \rightarrow -1} (x - 1)(x + 3) = \lim_{x \rightarrow -1} (x - 1) \lim_{x \rightarrow -1} (x + 3) = (-2)2 = -4$

**Příklad 3.4**

Určete limitu  $\lim_{x \rightarrow 4} \frac{x-2}{x+4}$ .

*Řešení*

- Použijeme [větu o limitě podílu](#) a využijeme spojitosti.
- $\lim_{x \rightarrow 4} \frac{x-2}{x+4} = \frac{\lim_{x \rightarrow 4} x-2}{\lim_{x \rightarrow 4} x+4} = \frac{2}{8} = \frac{1}{4}$

### Úloha

$$\lim_{x \rightarrow -1} (2x + 3) =$$

Řešení 

$$\circ = 2(-1) + 3 =$$

$$\circ = 1$$

### Úloha

$$\lim_{x \rightarrow 0} (x^2 - 2x + 3) =$$


Řešení 

$$\circ = 0^2 - 2 \cdot 0 + 3 =$$

$$\circ = 3$$

### Úloha

$$\lim_{x \rightarrow 1} \frac{2x+3}{3x-2} =$$

Řešení 

$$\circ = \frac{\lim_{x \rightarrow 1} (2x+3)}{\lim_{x \rightarrow 1} (3x-2)} =$$

$$\circ = \frac{2 \cdot 1 + 3}{3 \cdot 1 - 2} =$$

$$\circ = 5$$

## Úloha

$$\lim_{x \rightarrow 2} \frac{x^2 - 4}{x - 2} =$$

Řešení 

$$\circ = \lim_{x \rightarrow 2} \frac{(x-2)(x+2)}{(x-2)} =$$

$$\circ = \lim_{x \rightarrow 2} (x + 2) =$$

$$\circ = 4$$

## Úloha

$$\lim_{x \rightarrow -3} \frac{x^2 + 5x + 6}{x^2 + 4x + 3} =$$

Řešení 

$$\circ = \lim_{x \rightarrow -3} \frac{(x+2)(x+3)}{(x+1)(x+3)} =$$

$$\circ = \lim_{x \rightarrow -3} \frac{x+2}{x+1} =$$

$$\circ = \frac{1}{2}$$

### Úloha


$$\lim_{x \rightarrow 0} \sin x \lim_{x \rightarrow \frac{\pi}{2}} \sin x \lim_{x \rightarrow \pi} \sin x$$

Řešení 

$$\circ \lim_{x \rightarrow 0} \sin x = 0 \lim_{x \rightarrow \frac{\pi}{2}} \sin x = 1 \lim_{x \rightarrow \pi} \sin x = 0$$

### Úloha

$$\lim_{x \rightarrow 0} \frac{\sin 3x}{5x} =$$

Řešení 

$$\circ = \lim_{x \rightarrow 0} \frac{\sin 3x}{5x} \cdot \frac{3}{3} =$$

$$\circ = \lim_{x \rightarrow 0} \frac{\sin 3x}{3x} \cdot \frac{3}{5} =$$

$$\circ = \frac{3}{5}$$